

При выполнении заданий с кратким ответом впишите в поле для ответа цифру, которая соответствует номеру правильного ответа, или число, слово, последовательность букв (слов) или цифр. Ответ следует записывать без пробелов и каких-либо дополнительных символов. Имена правителей в заданиях с кратким ответом необходимо указывать словами: Пётр Первый или Пётр Великий, но не Пётр I или Пётр I.

В заданиях, где нужно установить соответствие между двумя столбцами, ответ запишите в виде сочетания букв и цифр, соблюдая алфавитную последовательность букв левого столбца. Некоторые данные правого столбца могут использоваться несколько раз или не использоваться вообще. Например: А1Б1В4Г2.

Если вариант задан учителем, вы можете вписать или загрузить в систему ответы к заданиям с развернутым ответом. Учитель увидит результаты выполнения заданий с кратким ответом и сможет оценить загруженные ответы к заданиям с развернутым ответом. Выставленные учителем баллы отобразятся в вашей статистике.

1. Примерно 40—35 тыс. лет назад на территории Беларуси:

- 1) появился человек современного типа
- 2) появились железные орудия труда
- 3) люди начали заниматься земледелием
- 4) расселились индоевропейцы

2. Определите правильное утверждение:

- 1) основание епархии в Турове считается началом распространения христианства на землях восточных славян
- 2) в X—XII вв. часть населения белорусских земель, принявшая христианство, по-прежнему поклонялась языческим богам
- 3) христианская церковь сохранила поклонение явлениям природы
- 4) в X—XII вв. укоренение христианства в сознании восточных славян проходило очень быстро

3. Аграрными преобразованиями польской власти во второй половине 1920-х — 1930-е гг. в Западной Беларуси предусматривалась(-ось):

- 1) социализация земли
- 2) переселение крестьян на хутора
- 3) проведение коллективизации
- 4) ликвидация осадничества

4. Определите правильное утверждение:

- 1) в феврале 1942 г. была создана Ставка Главного Командования
- 2) партизанский отряд «Красный Октябрь» был создан под руководством Т. Бумажкова и Ф. Павловского в Октябрьском районе
- 3) 19 июля 1942 г. было создано минское гетто
- 4) первый областной центр, освобожденный от немецко-фашистских захватчиков, — это Могилев

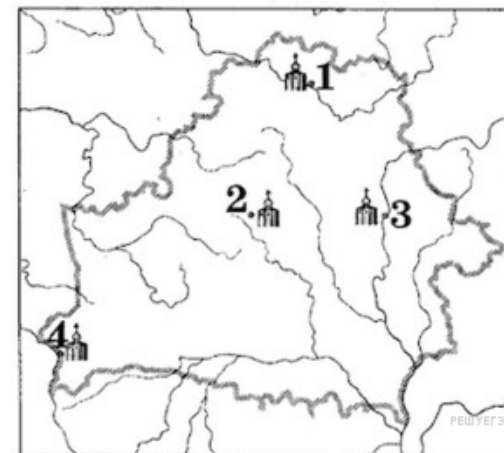
5. Определите правильное утверждение:

- 1) в 1817 г. в Виленском университете Ф. Савич создал «Демократическое общество»
- 2) на присоединенных к Российской империи белорусских землях униатская церковь получила государственную поддержку
- 3) в белорусских губерниях в составе Российской империи до 1812 г. сохранялось подворное налогообложение
- 4) разработанный по поручению Александра I «план Огинского» предусматривал автономию ВКЛ в составе Российской империи

6. В ВКЛ сохранению культуры, традиций, языка татар содействовало(-и, -а):

- 1) проведение Контрреформации
- 2) создание униатской церкви
- 3) взаимоотношения ВКЛ с Крымским ханством
- 4) толерантная политика верховной власти

7. Собор, который в 1738—1750 гг. был перестроен Я. К. Глаубитцем в стиле виленского барокко, находится в городе, который обозначен на картосхеме цифрой:



- 1) 1
- 2) 2
- 3) 3
- 4) 4

8. Определите задачи новой экономической политики (нэп), которая проводилась в БССР с 1921 г.:

- а — ликвидация товарного голода в стране
- б — использование частных средств для восстановления хозяйства
- в — проведение сплошной коллективизации сельского хозяйства
- г — национализация всех средств производства

- 1) а, б
- 2) а, г
- 3) б, в
- 4) в, г

9. Установите последовательность событий, которые происходили в XVII—XVIII вв.:

- А — Северная война  
 Б — первый раздел Речи Посполитой  
 В — крестьянское восстание на Каменщине  
 Г — казацко-крестьянская война

1) ГАВБ 2) БАГВ 3) АБВГ 4) ВАБГ

10. По решению ЮНЕСКО в Список мирового культурного наследия внесен(-о):

- 1) Дом правительства Республики Беларусь  
 2) здание Национальной академии наук Беларуси

3) здание Национальной библиотеки Беларуси 4) Мирский замково-парковый комплекс

11. В XIV—XV вв. татары переселялись на белорусские земли в результате:

- 1) продажи в рабство 2) массового перехода в христианство  
 3) приглашения великими князьями ВКЛ 4) захвата Золотой Ордой части ВКЛ

12. С образованием ВКЛ удельные князья:

- а) предоставляли городам магдебургское право  
 б) получили право распоряжаться государственной казной  
 в) попали в вассальную зависимость от великого князя  
 г) сохранили определенную самостоятельность в решении внутренних вопросов

1) а, б 2) б, г 3) а, в 4) в, г

13. Вторая мировая война началась нападением:

- 1) Германии на Польшу 2) Германии на Данию 3) Англии на Германию  
 4) Японии на Китай

14. Определите самую древнюю рукописную книгу (XI в.), созданную на белорусских землях и сохранившуюся до наших дней:

- 1) Мстижское евангелие; 2) Баркулабовская летопись; 3) «Хроника Быховца»;  
 4) Туровское евангелие; 5) Лавришевское евангелие.

15. Одним из направлений внешнеэкономической деятельности Республики Беларусь является:

- 1) противостояние глобализации; 2) использование традиционных рынков сбыта;  
 3) поддержка незаконной миграции;  
 4) ограничение сотрудничества с Таможенным союзом.

16. Определите сферу деятельности М. Финберга:

1) кино; 2) литература; 3) балет; 4) музыка.

17. Установите соответствие.

#### ПРОИЗВЕДЕНИЕ

#### АВТОР

- |                                      |                  |
|--------------------------------------|------------------|
| А) «Букварь»                         | 1) А. Нарушевич  |
| Б) «Великое искусство артиллерии»    | 2) К. Семенович  |
| В) «История польского народа»        | 3) Ж. Э. Жилибер |
| Г) «Флора Литвы» («Литовская флора») | 4) С. Соболев    |

*Ответ запишите в виде сочетания букв и цифр, сохраняя алфавитную последовательность букв левого столбца. Например: А2Б3В1Г4.*

18. Установите соответствие.

#### ДЕЯТЕЛЬНОСТЬ

- А) картограф, автор изданной в Амстердаме в начале XVII в. карты ВКЛ, которая считалась лучшей для своего времени  
 Б) православный епископ, сторонник унии с католической церковью  
 В) виленский воевода, канцлер, лидер кальвинизма в ВКЛ




#### ИСТОРИЧЕСКАЯ ЛИЧНОСТЬ

- 1) Н. Радзивилл Черный  
 2) Т. Маковский  
 3) К. Терлецкий  
 4) П. Скарга

*Ответ запишите в виде сочетания букв и цифр, сохраняя алфавитную последовательность букв левого столбца. Помните, что некоторые данные правого столбца могут не использоваться. Например: А3Б2В4.*

19. Белорусская социалистическая громада была окончательно оформлена в ... году.

20. Установите соответствие между изображениями архитектурных памятников белорусских земель XV—XVIII вв. (современный вид) и их названиями.

		
<b>А</b>	<b>Б</b>	<b>В</b>
1) церковь в деревне Мураванка 2) Мирский замок	3) Слонимский Андреевский костел 4) бывший кальвинистский сбор в Заславле	<small>РЕШУЕ!</small>

Ответ запишите в виде сочетания букв и цифр, сохраняя алфавитную последовательность букв верхнего ряда. Помните, что некоторые данные нижнего ряда могут не использоваться. Например: А2Б1В3.

21. Узнайте историческую личность и запишите только фамилию.

Родился в Пинском уезде, получил художественное образование в Париже, учился музыке у известного польского композитора Ф. Шопена. Художник-график, музыкант. Почти 25 лет путешествовал по Беларуси, Украине, Польше, Литве. Сделал более 1000 зарисовок мест и архитектурных памятников.

22. Обособленный надел земли, выделенный крестьянской семье из сельского общинного землепользования в одном месте взамен ранее существовавших в нескольких местах «полос» земли, на который не переносилась крестьянская усадьба, — это ...

23. Дополните предложение необходимой информацией.

В Минске 4 марта 1917 г. была образована народная ..., которую возглавил М. Фрунзе.

24. Установите соответствие.

ОПРЕДЕЛЕНИЕ

- А) поселение ремесленников и торговцев, которое размещалось возле укрепленного центра города
- Б) укрепленное поселение, которое возникло в конце бронзового — начале раннего железного века
- В) место поселения первобытного человека
- Г) укрепленный центр средневекового восточнославянского города

ПОНЯТИЕ, НАЗВАНИЕ

- 1) стоянка
- 2) городище
- 3) детинец
- 4) посад

Ответ запишите в виде сочетания букв и цифр, соблюдая алфавитную последовательность букв левого столбца. Например: А2Б3В1Г4.

25. Узнайте историческую личность и запишите только фамилию.

Художник, основал в конце XIX в. частную художественную школу в Витебске. Его учеником был всемирно известный художник М. Шагал. В творчестве отражал национальные черты еврейского быта, создал целую галерею образов еврейских ремесленников.

26. Переход, передача имущества (земли, предприятий и других средств производства) из частной собственности в государственную — это ...

27. Дополните предложение необходимой информацией.

Коллектив людей Раннего средневековья, которые жили отдельными семьями, сообща владели землей и занимались преимущественно сельскохозяйственным трудом, называется ... община.

28. Первый «немой» сейм (сойм) в Речи Посполитой состоялся в \_\_\_\_\_ году. Ответ запишите цифрами. Например: 1701.

29. Дополните предложение необходимой информацией.

В марте 1917 г. власть в Минске перешла в руки ... рабочих и солдатских депутатов (орган власти) и Временного общественного комитета порядка.

30. Определите три характерные черты общественно-политической жизни БССР в 1930-е гг.

- 1) Проведение референдумов по важнейшим вопросам
- 2) передача Советам всей полноты власти
- 3) формирование культа личности руководителя государства
- 4) полный контроль Коммунистической партии за общественно-политической жизнью
- 5) господство единой государственной идеологии

*Ответ запишите цифрами в порядке возрастания. Например: 235.*

31. Переход, передача имущества (земли, предприятий, транспорта, банков и др.) из частной собственности в государственную — это \_\_\_\_\_.

*Дополните предложение. Ответ запишите словом в той форме, в которой оно должно быть употреблено в предложении.*

32. Установите последовательность событий, произошедших в ВКЛ в середине XIII — первой половине XVI в.:

- 1) битва под Оршей между войсками ВКЛ и Московского княжества;
- 2) битва на реке Ворскле между войсками ВКЛ и Золотой Орды;
- 3) коронация Миндовга в Новгороде (Новогрудке).

*Установите последовательность событий. Ответ запишите цифрами, соблюдая полученную последовательность. Например: 123.*

33. Выберите и запишите фамилию известного современного белорусского художника:

Селещук, Дударев, Алферов, Дайнеко.

34. Прочитайте выдержку из записки, поданной Александру I.

«Часть Польши, присоединенная к Российской империи, составляла некогда отдельное самостоятельное владение — Литву... Жители его испокон веков... заботились о своих правах и были верны своим монархам, отличались мужеством и любовью к отчизне. Гордые своим происхождением, литвины... сохранили свои обычаи, свой гражданский кодекс, местное управление, свое войско, верховный суд... и даже сейм, собиравшийся по очереди в Варшаве и Гродно...

Я убежден, что если бы со времени присоединения к России забранных польских земель была из них образована одна провинция, сохранено имя Литвы и оставлены ее давние права и если бы из нее был создан отдельный край со своим управлением, но в качестве соединенного и включенного в состав Российской империи государства, то тогда иноземное влияние проникало бы туда с трудом».

Используя выдержку, определите правильные утверждения:

- 1) автор записки предлагает восстановить ВКЛ и предоставить княжеству автономию в составе Российской империи;
- 2) ВКЛ была предоставлена автономия в составе Российской империи в 1812 г.;
- 3) автор записки предлагает царю предоставить белорусским землям полную независимость;
- 4) целью восстановления ВКЛ было недопустить поддержки Наполеона помещиками западных губерний;
- 5) автор записки выступает за восстановление Речи Посполитой в границах 1772 г.

*Ответ запишите цифрами (порядок записи цифр не имеет значения, количество цифр в ответе в указанных заданиях может быть разным). Например: 12 или 123.*

35. Установите соответствие.

Событие

- А) окончательное раздробление Полоцкой земли на более мелкие княжества
- Б) начало правления в Турове князя Юрия Ярославича
- В) первое летописное упоминание Полоцка

Дата

- 1) 862 г.
- 2) 1101 г.
- 3) 1157 г.

*Ответ запишите в виде сочетания букв и цифр, соблюдая алфавитную последовательность букв левого столбца. Например: А1Б2В3.*

**36.** Определите три характерные черты общественно-политического развития Республики Беларусь во второй половине 1990-х гг. — начале XXI в.:

- 1) отсутствие конфликтов на религиозной почве;
- 2) принятие Конституции;
- 3) создание однопалатного парламента;
- 4) определение на Всебелорусских народных собраниях основных направлений внутривнутриполитического развития;
- 5) закрепление президентской формы государственного правления.

*Ответ запишите цифрами (порядок записи цифр не имеет значения, количество цифр в ответе в указанных заданиях может быть разным). Например: 12 или 123.*

**37.** Вставьте в приведенном тексте на места пропусков подходящие по смыслу слова из предложенного списка. Выбирайте их последовательно, мысленно вставляя в нужной форме.

*Генриховы артикулы А) \_\_\_\_\_ власть короля в Речи Посполитой. Право участия в управлении государством имело целое сословие — Б) \_\_\_\_\_, которое осуществляло свою власть через участие в В) \_\_\_\_\_.*

Слова:

- 1) ограничивать
- 2) расширять
- 3) общий (вальный) сейм
- 4) магистрат
- 5) шляхта
- 6) мещане

*Ответ запишите в виде сочетания букв и цифр, соблюдая алфавитную последовательность букв верхнего ряда. Например: А1Б2В3. Помните, что некоторые данные нижнего ряда могут не использоваться.*

**38.** Установите соответствие.

Характеристика

- А) живописец, отразивший в своих произведениях жизнь белорусских крестьян, автор картины «Старый пастух»
- Б) художник-авангардист, автор цикла картин «Витебская серия», посвященных его родному городу
- В) живописец, отразивший в своих работах национальные черты еврейского быта, автор картины «Старый портной»

Деятель культуры

- 1) М. Шагал    2) Н. Силиванович    3) Ю. Пэн

*Ответ запишите в виде сочетания букв и цифр, соблюдая алфавитную последовательность букв левого столбца. Например: А1Б2В3.*